



Vardas Pavardė.....Data.....

1. Pratęsk skaičių sekas:

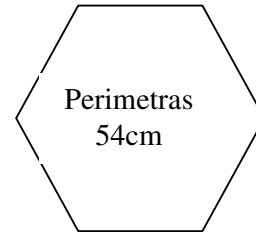
2, 13, 24, 35, _____, _____, _____, _____, _____, _____, 112, 123, 134.
_____, _____, _____, _____, _____, _____, _____, 340, 360, 380, 400, 420.
6, 55, 12, 50, 18, 45, _____, _____, _____, _____, _____, 30, 42, 25, 48, 20.

2. Stačiakampio perimetras 38cm.

Apskaičiuokite stačiakampio ilgį, jei žinoma, kad plotis lygus 8cm.



3. Apskaičiuok lygiakraščio daugiakampio kraštinės ilgį.



4. Susmulkinkite, sustambinkite ir palyginkite (< > =):

3m 27cm = _____ cm

4kg 125g = _____ g

2h 25min = _____ min

394ct = _____ Lt _____ ct

103cm = _____ m _____ cm

127 s = _____ min _____ s

2cm 6mm O 29mm


3m 4cm O 33cm

1h 15min O 79min

2 paros O 51h

5. Išspręsk tekstinius uždavinius:

a) Dažytojui reikėjo nudažyti 42m ilgio tvorą. $\frac{4}{6}$ tvoros jis jau nudažė. Kiek metrų tvoros jam dar liko nudažyti?



b) Rytis turėjo 27Lt. Pirko bilietą į kiną ir išleido $\frac{2}{9}$ pinigų. Kiek pinigų berniukui dar liko?

