
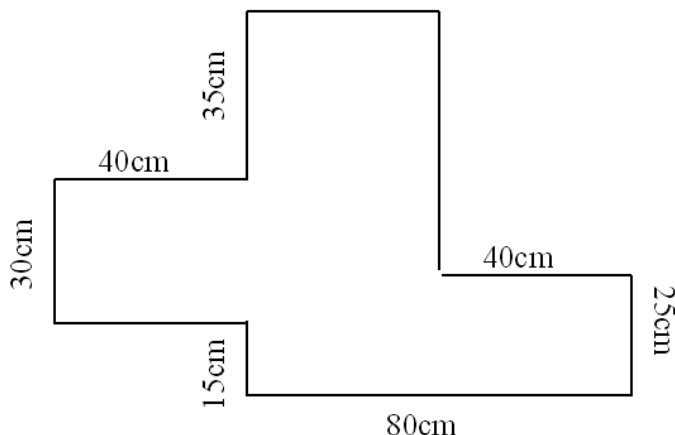


Vardas pavardė _____ Data _____


1. Raskite nežinomas kraštines ir apskaičiuokite perimetrą.



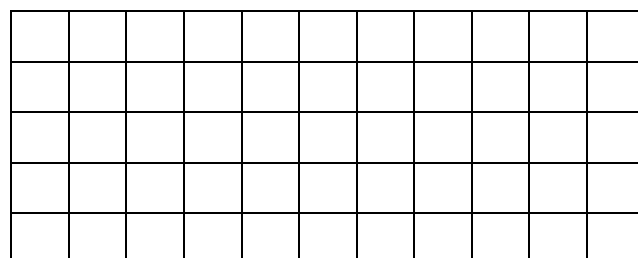
2. Apskaičiuokite.

$$501 - 80 \cdot 50 : 200 + 493 =$$

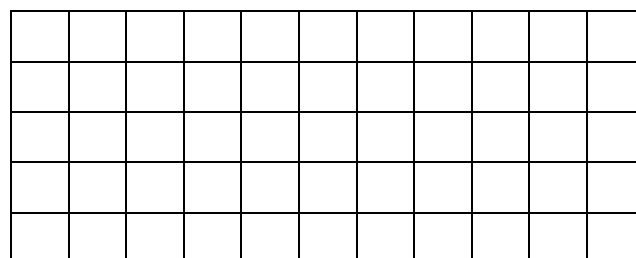
$$90 \cdot (56 : 7 + 7 \cdot 6) - 286 =$$



3. Trečiojė šaudykliniu bėgimu finišą pasiekė per $\frac{2}{10}$ min, o turėjo finišuoti per 8s. Keliomis sekundėmis ilgiau bėgo mergaitė?



4. Aštuonias dienas katinas Murkis gaudė pelytes ir kasdien pagavo po 5. Devynios pelytės paspruko, o kitas jis suėdė. Kiek pelyčių Murkis suėdė?



$$\begin{array}{r} 3 \text{ kg } 450 \text{ g} \\ + 6 \text{ kg } 770 \text{ g} \\ \hline \end{array}$$

$$\begin{array}{r} 7 \text{ kg } 285 \text{ g} \\ + 1 \text{ kg } 875 \text{ g} \\ \hline \end{array}$$

$$\begin{array}{r} 5 \text{ kg } 650 \text{ g} \\ - 3 \text{ kg } 825 \text{ g} \\ \hline \end{array}$$

$$\begin{array}{r} 13 \text{ kg } 405 \text{ g} \\ - 1 \text{ kg } 575 \text{ g} \\ \hline \end{array}$$

